

2.SINIF

Matematik

Konu: En Yakın Onluğa Yuvarlama



Eğitim Bahçesi

ÇALIŞMA
KAĞIDI

Ad:
Soyad:

Sınıf:
No:



Aşağıdaki soruların doğru cevaplarını işaretleyelim.

1. Aşağıdaki sayılardan hangisi 10'a yuvarlanamaz?

- a) 8
- b) 4
- c) 11

2. Aşağıdaki sayılardan hangisi 30'a yuvarlanabilir?

- a) 23
- b) 33
- c) 36

3. Aşağıdaki sayılardan hangisi 90'a yuvarlanabilir?

- a) 97
- b) 85
- c) 82

4. 8 sayısı ile 34 sayısının yuvarlanacağı en yakın onlukların toplamı kaçtır?

- a) 50
- b) 40
- c) 60

5. Aşağıdaki sayılardan hangisi 50'ye yuvarlanamaz?

- a) 44
- b) 45
- c) 46

6. Aşağıdaki sayılardan hangisinin yuvarlanacağı en yakın onluk diğerlerinden büyüktür?

- a) 75
- b) 73
- c) 74

7. Aşağıdaki sayılardan hangisinin yuvarlanacağı en yakın onluk diğerlerinden küçüktür?

- a) 17
- b) 12
- c) 16

8. Aşağıdaki sayılardan hangisi 35 sayısı ile aynı onluğa yuvarlanabilir?

- a) 45
- b) 37
- c) 33

2.SINIF

Matematik

Konu: En Yakın Onluğa Yuvarlama



Eğitim Bahçesi

ÇALIŞMA
KAĞIDI

Ad:
Soyad:

Sınıf:
No:



55

9. Aşağıdaki sayılardan hangisi yukarıdaki sayı ile aynı onluğa yuvarlanmaz?

- a) 61
- b) 66
- c) 63

10. Aşağıdaki sayı ikililerinden hangisinin yuvarlanacağı en yakın onlukların toplamı 90'a eşittir?

- a) 33 - 76
- b) 55 - 32
- c) 43 - 35

11. Aşağıdaki sayılardan hangisi 80 onluğuna yuvarlanamaz?

- a) 85
- b) 88
- c) 81

12. Aşağıdaki sayılardan hangisi 50 onluğuna yuvarlanamaz?

- a) 55
- b) 53
- c) 52

13. 65, 63, 75, 73 ve 49 sayıları sıra ile hangi onluklara yuvarlanır?

- a) 60, 70, 80, 70, 50
- b) 70, 70, 80, 70, 50
- c) 70, 60, 80, 70, 50

14. Aşağıdaki sayılardan hangisi 44 sayısı ile aynı onluğa yuvarlanabilir?

- a) 33
- b) 37
- c) 45

15. Aşağıdaki sayılardan hangisi 75 sayısı ile aynı onluğa yuvarlanabilir?

- a) 63
- b) 83
- c) 73

2.SINIF

Matematik

Konu: En Yakın Onluğa Yuvarlama



Eğitim Bahçesi

ÇALIŞMA KÂĞIDI

Ad:
Soyad:

Sınıf:
No:



16. 33 sayısı ile 56 sayısının yuvarlanabileceği en yakın onluklar sırası ile aşağıdakilerden hangisidir?

- a) 30, 50
- b) 30, 60
- c) 40, 60

17. Aşağıdaki sayılardan hangisi 33 ile aynı onluğa yuvarlanamaz?

- a) 31
- b) 35
- c) 27

18. Aşağıdaki sayılardan hangisi 77 sayısı ile aynı onluğa yuvarlanan en büyük sayıdır?

- a) 84
- b) 85
- c) 83

19. Aşağıdaki sayılardan hangisi 16 sayısı ile aynı onluğa yuvarlanan en küçük sayıdır?

- a) 19
- b) 21
- c) 24

20. Aşağıdaki sayılardan hangisi 92 sayısı ile aynı onluğa yuvarlanan en küçük sayıdır?

- a) 84
- b) 85
- c) 98

21. Aşağıdaki sayılardan hangisi 66 sayısı ile aynı onluğa yuvarlanır?

- a) 55
- b) 73
- c) 78

22. Aşağıdaki sayılardan hangisi hem 85 hem de 91 sayıları ile aynı onluğa yuvarlanabilir?

- a) 95
- b) 88
- c) 98

23. Aşağıdaki sayılardan hangisi hem 34 hem de 26 sayıları ile aynı onluğa yuvarlanabilir?

- a) 21
- b) 32
- c) 35

2.SINIF

Matematik

Konu: En Yakın Onluğa
Yuvarlama



Eğitim Bahçesi

ÇALIŞMA
KAĞIDI

Ad:
Soyad:

Sınıf:
No:



Aşağıdaki sayıların yanlarına yuvarlanabilecekleri en yakın onluğunu yazalım.

23

92

78

82

15

41

77

39

45

7

53

66

63

75

2.SINIF

Matematik

Konu: En Yakın Onluğa Yuvarlama



Eğitim Bahçesi



















ÇALIŞMA
KAĞIDI

Ad:
Soyad:

Sınıf:
No:



Aşağıdaki paraşütlerde yazan sayıları en yakın onluğa yuvarlayalım.

 23 20	 57 60	 64 60	 85 90	 54 50	 38 40
 48 50	 7 0	 72 70	 58 60	 43 40	 29 30
 74 70	 57 60	 89 90	 64 60	 76 80	 62 60

2.SINIF

Matematik

Konu: En Yakın Onluğa
Yuvarlama



Eğitim Bahçesi

ÇALIŞMA
KAĞIDI

Ad:
Soyad:

Sınıf:
No:



Aşağıdaki verilen onluklara yuvarlanabilen en büyük ve en küçük sayıları yazalım.

En Küçük Sayı	Onluk	En Büyük Sayı
	20	
	30	
	40	
	50	
	60	
	70	
	80	
	90	
	10	

2.SINIF

Matematik

Konu: En Yakın Onluğa
Yuvarlama



Eğitim Bahçesi

ÇALIŞMA
KAĞIDI

Ad:
Soyad:

Sınıf:
No:



Aşağıda okunuşları verilen sayıları yazalım ve en yakın onluğa yuvarlayalım.

SAYININ OKUNUŞU	SAYI	EN YAKIN ONLUK
On beş		
Yirmi yedi		
Otuz dokuz		
Kırk iki		
Yetmiş altı		
Seksen beş		
Yirmi altı		
Doksan bir		
Seksen iki		
Yetmiş üç		
On dokuz		
Yedi		
Otuz üç		
Kırk beş		